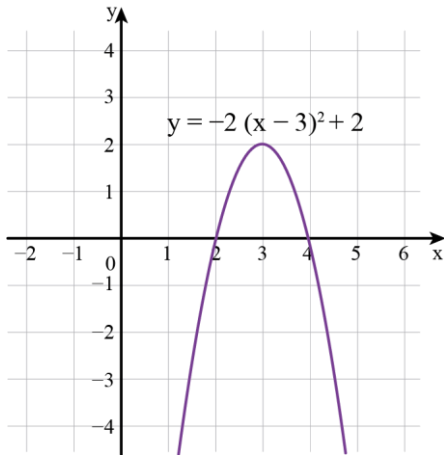


שיקוף ביחס לציר ה- x

לפניכם גרפים של ישרים ופרבולות.

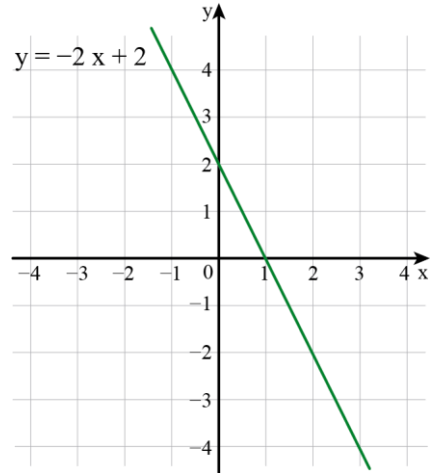
1. שרטטו לכל גרף, באותה מערכת צירים, את השיקוף שלו ביחס לציר ה- x .
2. כתבו ייצוג אלגברי מתאים לכל אחת מהפונקציות ששרטטתם.
3. מה תוכלו לומר על הקשר בין הייצוגים האלגבריים של כל זוג פונקציות?

ג.



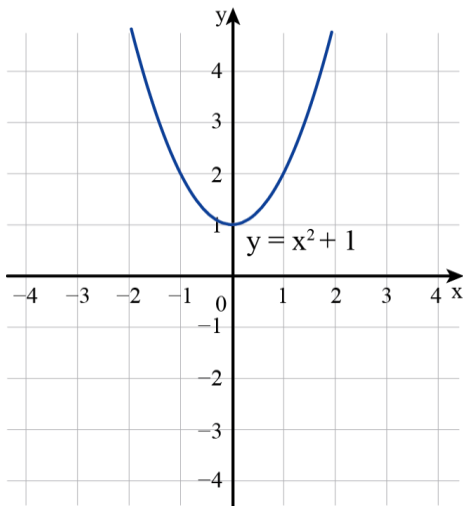
הפונקציה לאחר השיקוף:

א.



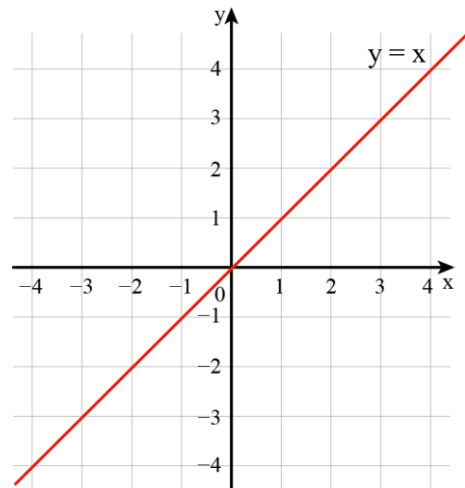
הפונקציה לאחר השיקוף:

ד.



הפונקציה לאחר השיקוף:

ב.



הפונקציה לאחר השיקוף: