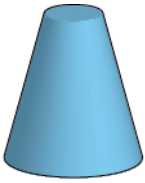


משימה 1 – גרף לכלי ולהפך (טור א)

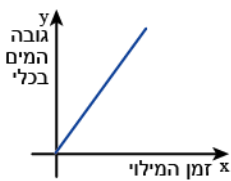


כאשר הכלי שלפניכם ריק, ממלאים אותו במים בקצב קבוע.

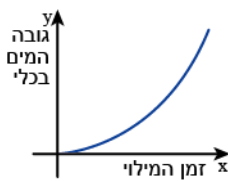
ארבע בנות שרטטו גרפים המתארים, לדעתן, את גובה המים בכלי (y) כפונקציה של זמן המילוי שלו (x).

א. רשמו (מתחת לכלי) את שם הבת ששרטטה את הגרף הנכון.

הגרף של גילה



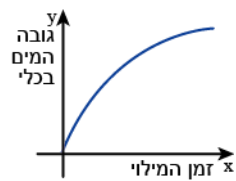
הגרף של אורית



הגרף של בתיה



הגרף של דליה



ב. בחרו אחד מהגרפים שלא התאמתם לכלי – קבעו אם קיים כלי אחר שהגרף יכול לתאר אותו. אם כן, ציירו את הכלי. אם לא, נמקו.



משימה 1 – גרף לכלי ולהפך (טור ב)

כאשר הכלי שלפניכם ריק, ממלאים אותו במים בקצב קבוע.

ארבע בנות שרטטו גרפים המתארים, לדעתן, את גובה המים בכלי (y) כפונקציה של זמן המילוי שלו (x).

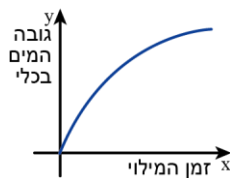
א. רשמו (מתחת לכלי) את שם הבת ששרטטה את הגרף הנכון.



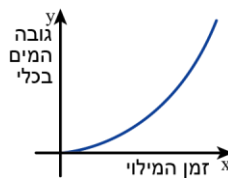
הגרף של בינה



הגרף של דינה



הגרף של אלישבע



הגרף של גבריאלה



ב. בחרו אחד מהגרפים שלא התאמתם לכלי – קבעו אם קיים כלי אחר שהגרף יכול לתאר אותו. אם כן, ציירו את הכלי. אם לא, נמקו.