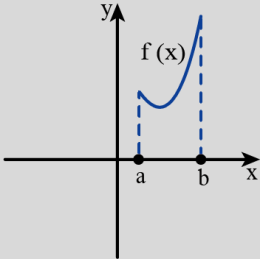
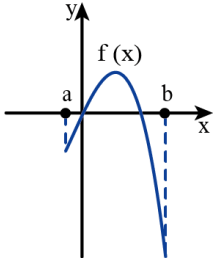
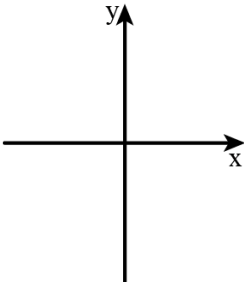
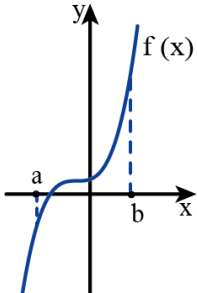


דף פעילות 2 – גרף הנגזרת וגרף הפונקציה

הגרפים שבטבלה הבאה מתארים פונקציות המוגדרות בקטע $[a, b]$.

השלימו את הטבלה הבאה (היעזרו בדוגמה).

הפונקציה הנגזרת	שרטוט גרף הפונקציה הנגזרת	הפונקציה	שרטוט גרף הפונקציה
ד ג מ ה	הגרף חותך את ציר ה-x. (לא משיק)	יש נקודת מינימום.	
1	הגרף חותך את ציר ה-x. (לא משיק)		
2	עולה		
3	הגרף משיק לציר ה-x		
4	שלילית		