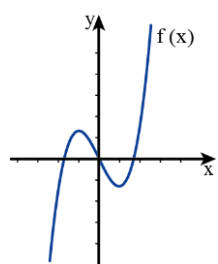
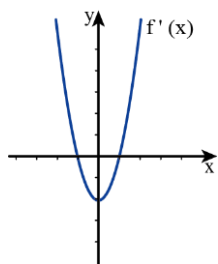
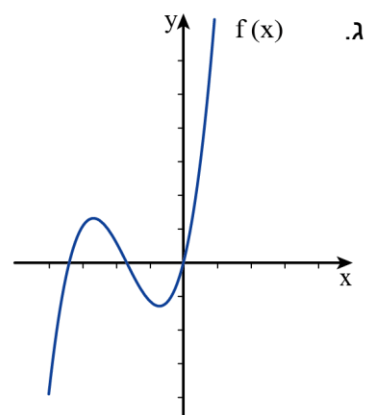
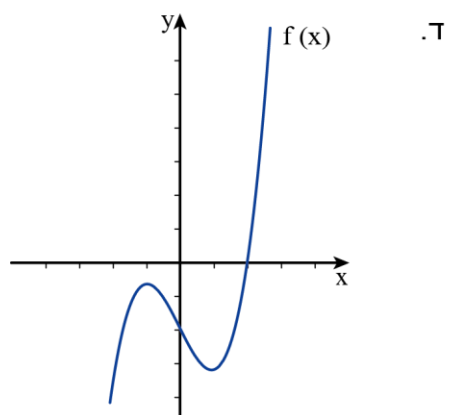
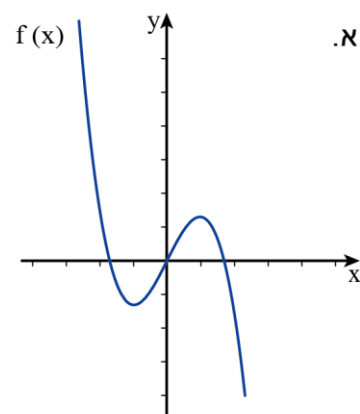
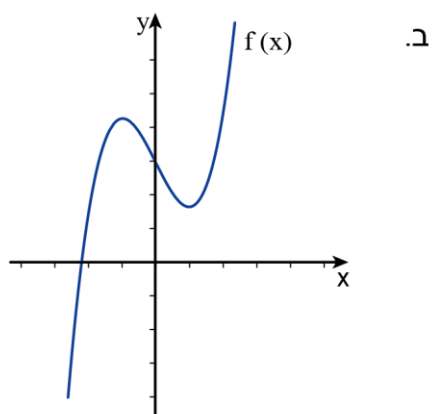


## משימה 2 – מגרף הנגזרת לגרף הפונקציה

נתון גרף הנגזרת  $f'(x)$  וסקיצה אפשרית של גרף הפונקציה  $f(x)$  המתאימה לו:



סמנו אילו מבין הגרפים הבאים יכולים גם הם להיות גרף הפונקציה  $f(x)$  (אם ישנם כאלה):



ה. לא ייתכן גרף נוסף שיכול להתאים לפונקציה  $f(x)$  כי לכל נגזרת מתאימה פונקציה יחידה.