


משימה 2 – מהו הגרף המתאים? (טור א)



כאשר הכלי שלפניכם ריק, ממלאים אותו במים בקצב קבוע.

ארבע בנות שרטטו גרפים המתארים, לדעתן, את גובה המים בכלי (y) כפונקציה של זמן המילוי שלו (x).

רשמו (מתחת לכלי) את שם הבת ששרטטה את הגרף הנכון.

הגרף של ג'ודי



הגרף של אביבה




הגרף של ברוריה



הגרף של דורית



משימה 2 – מהו הגרף המתאים? (טור ב)



כאשר הכלי שלפניכם ריק, ממלאים אותו במים בקצב קבוע.

ארבע בנות שרטטו גרפים המתארים, לדעתן, את גובה המים בכלי (y) כפונקציה של זמן המילוי שלו (x).

רשמו (מתחת לכלי) את שם הבת ששרטטה את הגרף הנכון.

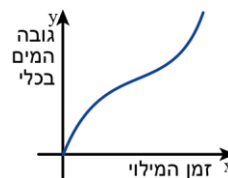
הגרף של בת-שבע



הגרף של דיקלה



הגרף של אדוה



הגרף של גלית

