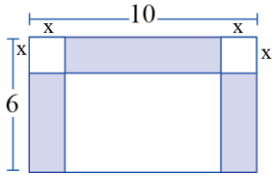
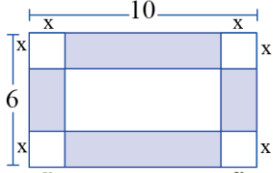
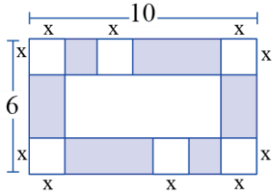
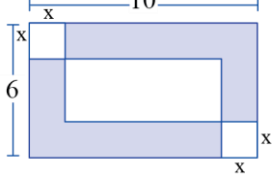


דף פעילות 4 – חיבור או חיסור?

התאימו שתי פונקציות מטרה מן הרשימה לכל שרטוט.

- | | |
|---|---|
| <p>ה. $y = 2x(10 - x) + 2x(6 - 2x)$</p> <p>ו. $y = 2x(10 - 3x) + 2x(6 - 2x)$</p> <p>ז. $y = 60 - 4x^2 - (10 - 2x)(6 - 2x)$</p> <p>ח. $y = x(10 - 2x) + 2x(6 - x)$</p> | <p>א. $y = 60 - 2x^2 - (10 - 2x)(6 - 2x)$</p> <p>ב. $y = 2x(6 - 2x) + 2x(10 - 2x)$</p> <p>ג. $y = 60 - 2x^2 - (6 - x)(10 - 2x)$</p> <p>ד. $y = 60 - 6x^2 - (6 - 2x)(10 - 2x)$</p> |
|---|---|

הפרש שטחים	סכום שטחים	התכנון	
			1
			2
			3
			4