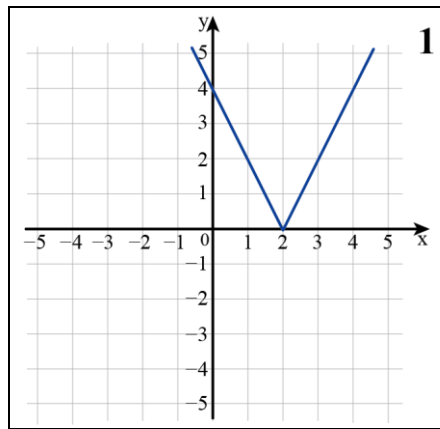
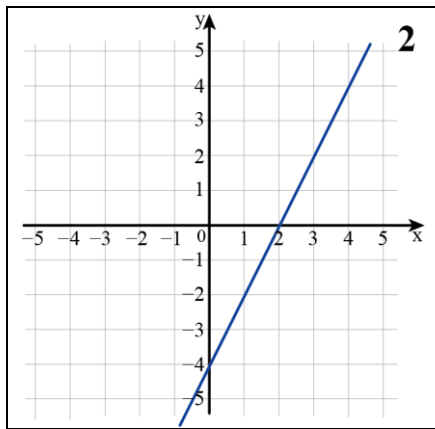


דף פעילות 3 – ערך מוחלט

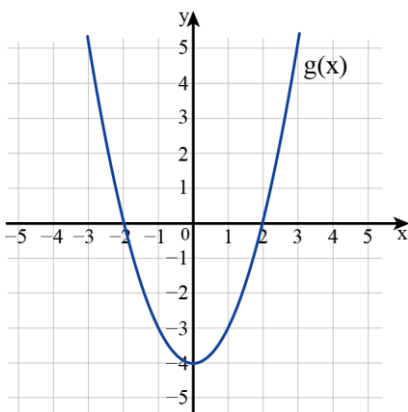
1. לפניכם שני גרפים. אחד מהם מתאר את הפונקציה $f(x)$ והאחר את הפונקציה $|f(x)|$.



התאימו לכל פונקציה את מספר הגרף המתאר אותה:

_____ - $f(x)$ _____ - $|f(x)|$

נמקו:

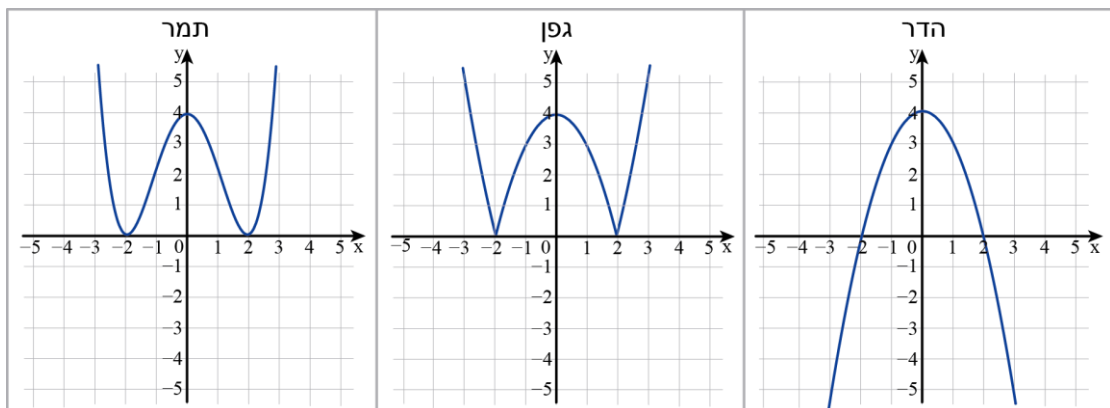


2. נתון גרף הפונקציה $g(x)$.

הדר, גפן ותמר שרטטו את גרף הפונקציה $|g(x)|$.

מי מהן צודקת? _____

נמקו:



3. נתון גרף הפונקציה $h(x)$.

שרטטו על אותה מערכת צירים את גרף הפונקציה $|h(x)|$.

