

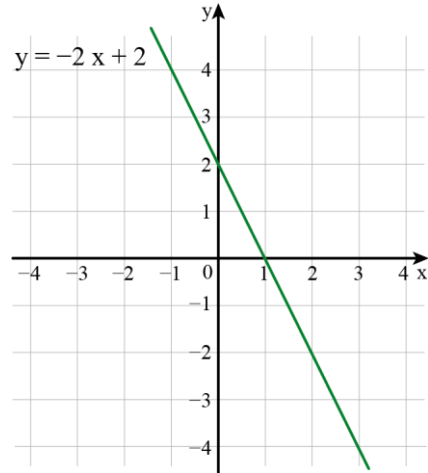
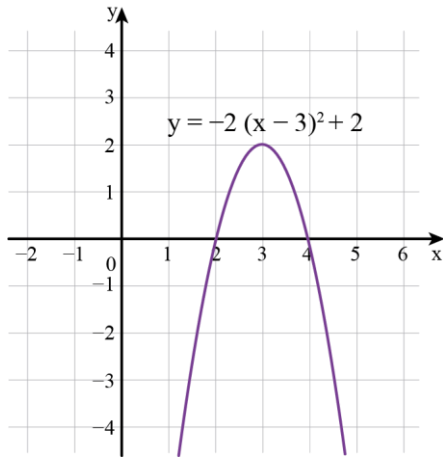
דף פעילות 1 – שיקוף ביחס לציר ה- x

לפניכם גרפים של ישרים ופרבולות.

1. שרטטו לכל גרף, באותה מערכת צירים, את השיקוף שלו ביחס לציר ה- x .
2. כתבו ייצוג אלגברי מתאים לכל אחת מהפונקציות ששרטטתם.
3. מה תוכלו לומר על הקשר בין הייצוגים האלגבריים של כל זוג פונקציות?

ג.

א.

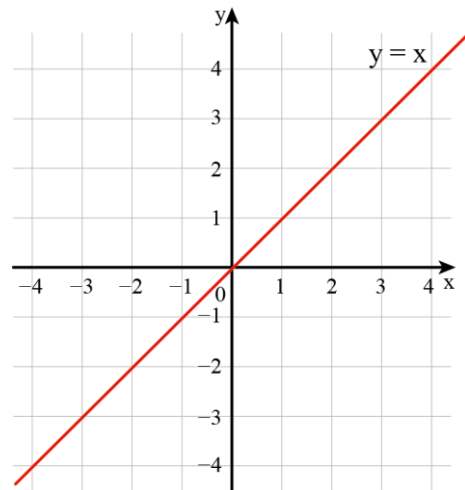
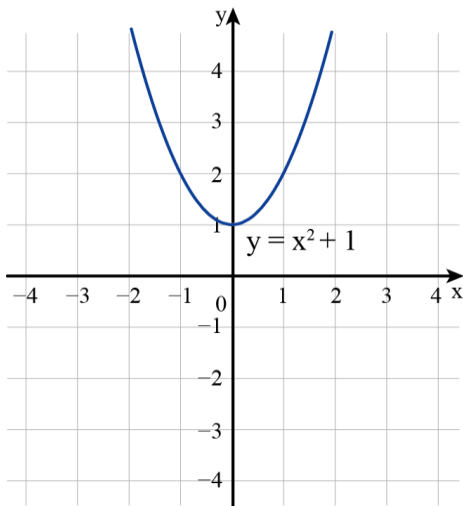


_____ הפונקציה לאחר השיקוף:

_____ הפונקציה לאחר השיקוף:

ד.

ב.



_____ הפונקציה לאחר השיקוף:

_____ הפונקציה לאחר השיקוף: