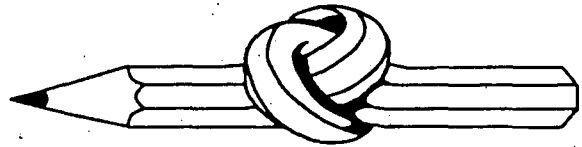
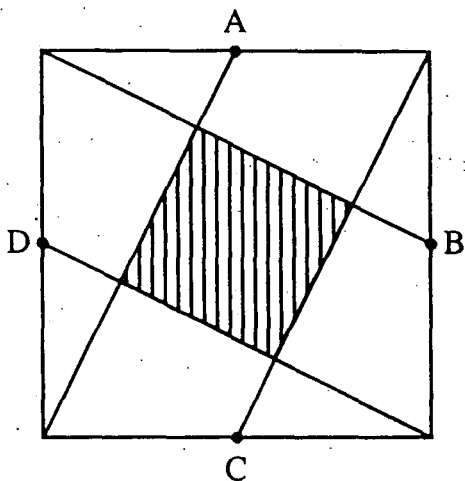


אתגר השבוע 29

שם: _____



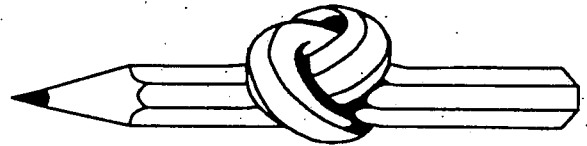
פזל הנדסי



A, B, C, D אמצעי צלעות הריבוע הגדול.
איזה חלק משטח הריבוע הגדול תופס הריבוע
המקוקו?
(אחת הדרכים לפתרון היא לשרטט מחדש את
הריבוע, לגזור לפי קוי החלוקה ולנסות לסדר
מחדש את הפזל למספר ריבועים קטנים)

אתגר השבוע 29

המשך



מדור הארכיטקטורה

לפניך ה"צעקה האחרונה" בארכיטקטורה.
עם זאת נשאלת השאלה: האם התכנון הוא מעשי?
האם כל דלת נפתחת - ואם כן, באיזה כיוון?
(הצעה: כמו כל ארכיטקט, כדאי גם לך לבנות דגם מנייר!)

