
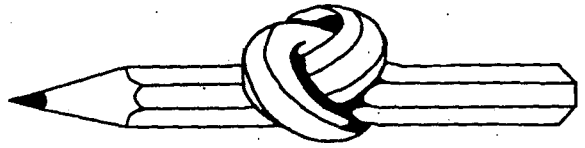


אתגר השבוע 22



שם: _____



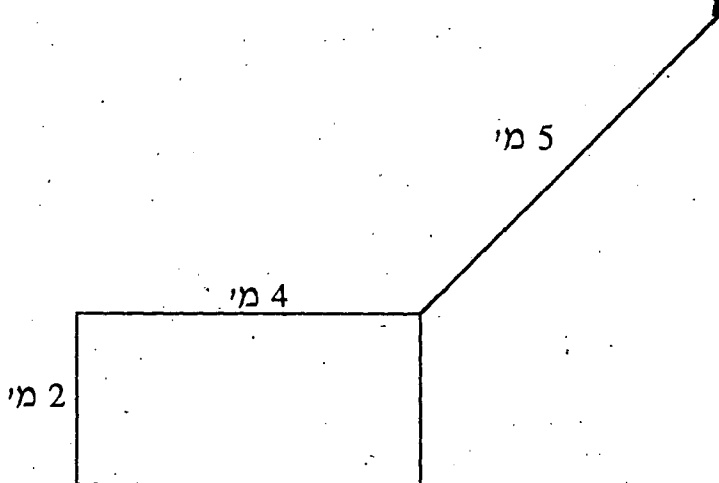
איה החמור

ילדי כיתה אי של ביה"ס לטבע קשרו את החמור איה בחבל שאורכו 5 מ' בפינת אורותו.

מידות האורות הן 4 מ' \times 2 מ'.

מצא את שטח המרעה העומד לרשותו של איה.

(כדאי לבצע "ניסוי מעשי" בעזרת קופסת גפרורים וחוט . . . או בעזרת חמור).



מבצע "הקש"

א. כמה הקשות של מכונת כתיבה דרושות לכתבנית כדי למספר את כל עמודיו של

ספר בעל 375 עמודים? (פרט את הפתרון!)

ב. כמה עמודים לספר שמיספור עמודיו דורש 1137 הקשות של מכונת כתיבה?

(פרט את הפתרון!)