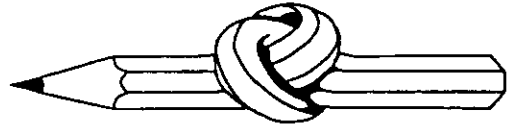

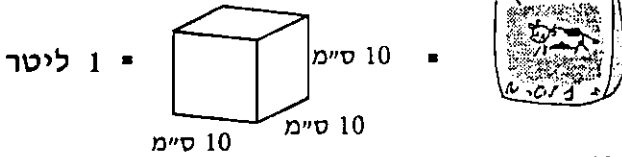


אתגר השבוע 15

שם: _____



בריכת החלב



סמן את התשובות הנכונות!

1. כמה שקיות חלב דרושות לדעתך, כדי למלא בריכת שחיה שמידותיה 30 מ' × 20 מ' × 2 מ' ?

א. 1200 שקיות. ב. 12,000 שקיות. ג. 1,200,000 שקיות.

2. תנובתה היומית הממוצעת של פרה היא 30 ליטר.

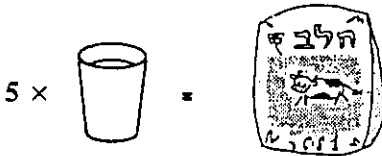
תנובתן של כמה פרות דרושה על מנת למלא בריכה זאת?

א. 4,000 פרות ב. 40,000 פרות ג. 400,000 פרות

3. ברפת ממוצעת 100 פרות חולבות.

כמה רפתות כאלה צריכות לספק את תנובתן היומית למילוי בריכה זאת?

א. 40 רפתות ב. 400 רפתות ג. 4,000 רפתות



4. אורי שותה 3 כוסות חלב ביום.

כמה ימים יספיק החלב שבבריכה

לספק את מנתו היומית של אורי?

א. 2,000 ימים. ב. 20,000 ימים. ג. 2,000,000 ימים.

5. כמה שנים בערך יספיק החלב שבבריכה לספק את מנתו היומית של אורי?

א. 55 שנה. ב. 550 שנה. ג. 5500 שנה.